

令和6年度 S特選コース

第1回 入学試験問題 (2月1日 午後)

社 会

注 意

- 1 この問題用紙は、試験開始の合図で開くこと。
- 2 問題用紙と解答用紙に受験番号・氏名を記入すること。
- 3 答えはすべて解答用紙に記入すること。
漢字で書くべき解答は、漢字で答えること。
- 4 印刷がわからない場合は申し出ること。
- 5 試験終了の合図でやめること。

受験 番号		氏 名	
----------	--	--------	--

- 1 次の [資料Ⅰ]・[資料Ⅱ] は、東京都市大学等々力中学校の中学1年生2人が「食」について地理の授業中に発表するために準備したスライドです。これを見て、後の問いに答えなさい。

[資料Ⅰ] 太郎君のスライド

カップ^{めん}麺の世界展開

1958年 世界初のインスタントラーメン「チキンラーメン」が発売

1971年 「A カップヌードル」が発売

1972年 B 浅間山荘事件をきっかけに、カップ麺が日本に普及^{ふきゅう}

1973年 「カップヌードル」がアメリカに進出

1991年 オランダとインドに日清食品のC 工場設立

1995年 日清食品がD 被災地を訪問し、「チキンラーメン」を配布

(日清食品 HP)

[資料Ⅱ] 花子さんのスライド

世界のハンバーガーメニュー

E インドネシアのソーセージマックマフィン…F 豚肉が使用されていない



G インドのマハラジャマック…H 牛肉が使用されていない

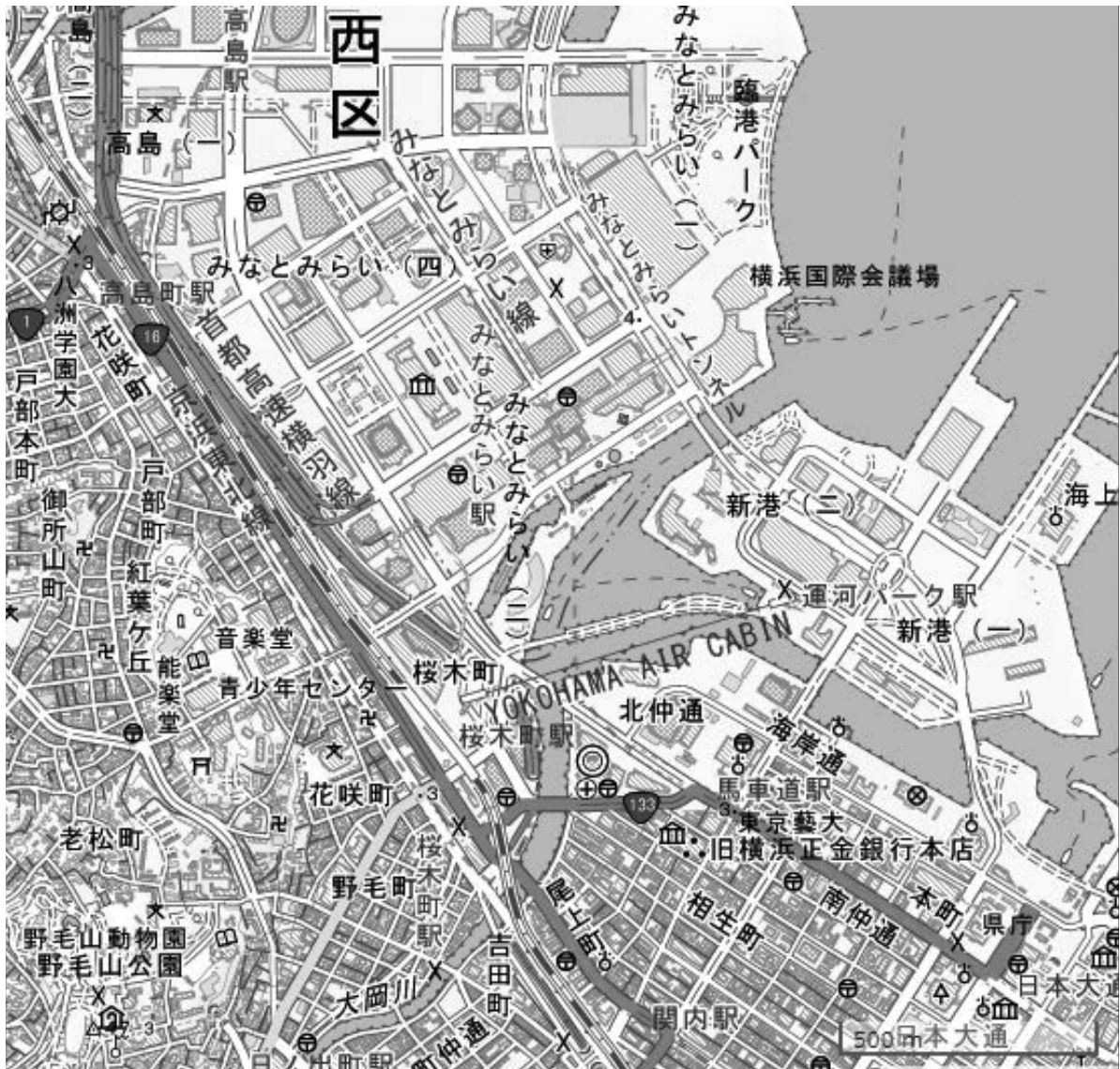


(マクドナルド HP)

(問題は次のページに続く)

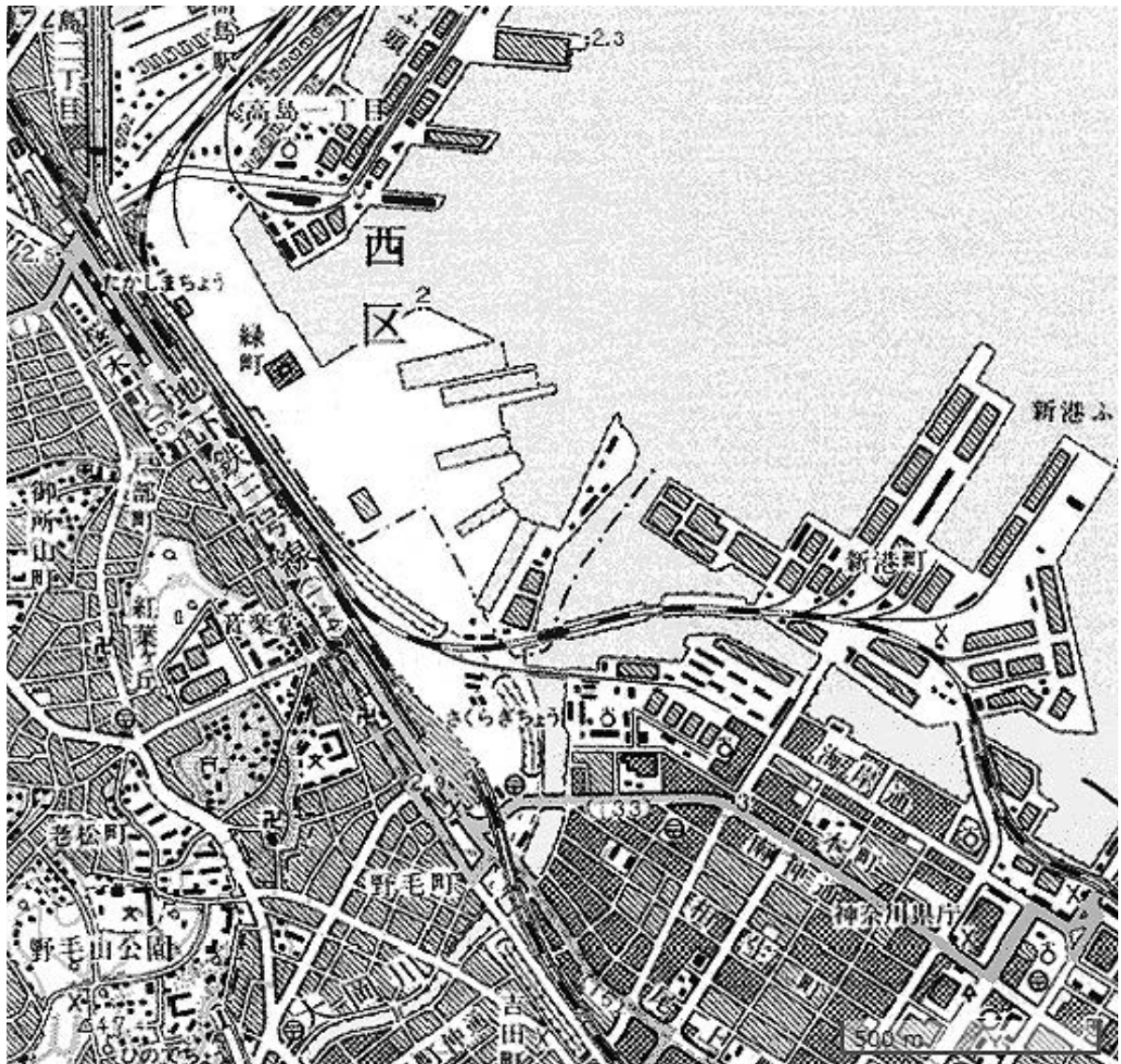
問1 下線部 A について、現在カップヌードルミュージアムがある桜木町周辺の【地図Ⅰ】と1983年から1987年の桜木町周辺を示した【地図Ⅱ】を見て、読み取れることとして誤っているものを、後の①～④から選びなさい。

【地図Ⅰ】現在の桜木町周辺



(地理院地図)

[地図Ⅱ] 1983年から1987年の桜木町周辺



(今昔マップ)

- ① [地図Ⅰ] について、現在の「桜木町駅」周辺からは「YOKOHAMA AIR CABIN」というロープウェイが運行している。
- ② [地図Ⅱ] 中の標高について、「野毛山公園」と最も低いところの差は40 m以上ある。
- ③ [地図Ⅰ] 中の「臨港パーク」は、もともとは海だった場所に土砂などを積み上げて干拓してできた場所である。
- ④ [地図Ⅱ] 中には、港に運ばれた荷物を運ぶための貨物鉄道が通っていたことが分かる。

問2 下線部 B について、浅間山は何県と何県の間位置していますか。解答らんにあてはまるように答えなさい。

問3 下線部 C について、[表 I] は即席めん^{そくせき}の都道府県別の出荷額上位 10 地域および産出事業所数を示したものです。[表 II] は地域ごとの即席めんへの 1 世帯あたり年間支出額上位と下位 10 地域と支出額の平均を示したものです。この [表 I] と [表 II] から読み取れることとして正しいものを、後の①～④から選びなさい。

[表 I] 即席めん^{そくせき}の都道府県別の出荷額上位 10 地域および産出事業所数（従業者 4 人以上の事業所）

都道府県	金額（百万円）	産出事業所数
茨城県	65,329	4
静岡県	54,025	8
群馬県	50,822	5
兵庫県	44,755	8
埼玉県	37,014	3
千葉県	20,662	4
北海道	15,403	6
福岡県	14,833	6
愛知県	14,371	7
佐賀県	10,771	6
全国計	440,913	99

（経済産業省 HP）

[表Ⅱ] 地域ごとの即席めんへの1世帯あたり年間支出額上位と下位10地域

上位地域	年間平均支出額（円）	下位地域	年間平均支出額（円）
鳥取市	3,149	千葉市	1,957
佐賀市	2,813	長野市	1,952
熊本市	2,705	盛岡市	1,943
大分市	2,637	浜松市	1,941
高知市	2,588	札幌市	1,894
北九州市	2,581	仙台市	1,855
新潟市	2,562	秋田市	1,833
福岡市	2,541	前橋市	1,771
山口市	2,485	那覇市	1,685
松江市	2,470	水戸市	1,532

（総務省 HP）

- ① 即席めん出荷額上位10位に入る都道府県では、1世帯あたりの即席めんへの支出下位10地域には入っていない。
- ② 即席めん出荷額上位5位までの都道府県はすべて東日本にある。
- ③ 即席めんへの年間平均支出額上位10位と下位10位それぞれに、政令指定都市が含まれている。
- ④ 年間平均支出額の最大金額と最小金額で、2000円以上の開きがある。

問4 下線部 D について、次の [写真] は、当時の被災地の様子を写したものです。この災害名を答えなさい。

[写真] 当時の被災地の様子



(朝日新聞 HP)

問5 下線部 E と下線部 G について、それぞれの国のハンバーガーのメニューは、各国の宗教に配慮し、豚肉や牛肉が使用されていません。インドネシアとインドで大多数を占める宗教の組み合わせとして正しいものを、次の①～④から選びなさい。

- | | | |
|---|---------------|------------|
| ① | インドネシア…イスラーム | インド…ヒンドゥー教 |
| ② | インドネシア…ヒンドゥー教 | インド…イスラーム |
| ③ | インドネシア…仏教 | インド…道教 |
| ④ | インドネシア…道教 | インド…仏教 |

問6 下線部 E について、インドネシアのジャカルタ（東経 105 度）でソーセージマックマフィンを食べた花子さんは、現地を 8 月 31 日 20 時に飛行機で出発し、7 時間かけて東京に到着しました。東京には何月何日何時に到着しましたか。解答らんにあてはまるように 24 時間表記で答えなさい。なお、サマータイムは考慮しないものとします。

問7 下線部 F と下線部 H について、[表Ⅲ] 中の①～④は、世界におけるチーズ・牛肉・豚肉・鶏卵^{けいらん}の生産割合上位 5 か国を示しています。このうち、牛肉と豚肉に該当^{がいたう}するものを、[表Ⅲ] 中の①～④からそれぞれ選びなさい。

[表Ⅲ] 世界におけるチーズ・牛肉・豚肉・鶏卵の生産割合上位 5 か国

	1 位	2 位	3 位	4 位	5 位
①	中国 34.1%	アメリカ 8.0%	インド 6.9%	インドネシア 5.7%	ブラジル 3.8%
②	中国 38.6%	アメリカ 11.4%	ドイツ 4.8%	スペイン 4.2%	ブラジル 3.7%
③	アメリカ 26.9%	ドイツ 10.3%	フランス 7.4%	イタリア 5.2%	オランダ 4.1%
④	アメリカ 18.1%	ブラジル 14.9%	中国 8.7%	アルゼンチン 4.6%	オーストラリア 3.4%

(『データブック オブ・ザ・ワールド 2022 年版』より本校作成)

2 次の文章と [表] を見て、後の問いに答えなさい。

中学1年生になった私は、夏の自由研究として曾祖父そうそふから私までの四世代の「生まれた時に何があった？」を調べることにしました。家族で父の田舎に帰省した時に、祖父から直接聞き取りをし、写真や日記、資料などを見せてもらいとても面白かったです。

[表] 自由研究のノート

生まれた年	主な出来事	家族や私の記録・感想
曾祖父 1945(昭和20)年	ポツダム宣言を受諾 A <u>太平洋戦争の終結</u> 衆議院議員選挙法の改正	とても暑い8月に曾祖父は生まれた 親戚がたくさん亡くなった 女性は緊張していたそうだ
祖父 1967(昭和42)年	B <u>公害対策基本法の公布</u> C <u>吉田茂元首相の国葬</u> D <u>非核三原則の表明</u>	都会は大変だと思ったそうだ 体育の日に祖父は生まれた 被爆国として当然だと思ったそうだ
父 1989(昭和64 / 平成元)年	E <u>昭和天皇の崩御</u> F <u>吉野ヶ里遺跡から銅剣発見</u> 消費税の導入	1月1日生まれの父は昭和生まれだ 家族の誰一人覚えていない 1円玉がめんどろだったそうだ
私 2011(平成23)年	東日本大震災の発生 サッカー女子ワールドカップで優勝	3月生まれだったので大変だったそうだ すごいことを成し遂げてくれた

問1 下線部 A について、次の [写真 I] は戦争の終結直後のものです。[写真 I] の説明として正しいものの組み合わせを、後の①～④から選びなさい。

[写真 I] 戦争の終結直後の様子



- a ラジオ放送を聞いている。
- b テレビ放送を見ている。
- c 広島・長崎に原爆が投下された後のものである。
- d 天皇が人間宣言をした後のものである。

- ① aとc ② aとd ③ bとc ④ bとd

問2 下線部 B について、次の【資料 I】は小学生の日記です。この日記に記されている公害病がきっかけとなって、この法律が公布されました。この公害病が発生した場所を、【地図 I】の①～④から選びなさい。

【資料 I】小学生の日記

ある時、学校でべんきょうをしていたら、へんなにおいがしてきた。先生もおもわずへんなにおいがするねとおっしゃった。家にかえっておかあさんにきくと、今日はとってもガスのにおいがして、ノドがカラカラになり、あかちゃんなんか死にそうになったのだといていた。私もこのごろ、ノドがよわいせいか、ノドがいたくてたまらない。このままだとみんながそうになってしまうことだろう。一日でよいからきれいな空気をはらいっぱいすってみたいきもちであります。夏休みには、いなかのおばあちゃんのところへ行ってきれいな空気をみんなの分まですうてきて、私たちのよごれた町の空気を入れかえてやろうと思っている。

【地図 I】



問3 下線部 C について、吉田茂が首相の時におきた出来事として正しいものを、次の①～④から選びなさい。

- ① ドイツでベルリンの壁^{かべ}が崩壊^{ほうかい}した。
- ② サンフランシスコで平和条約が結ばれた。
- ③ ニューヨークのビルに航空機が突っ込むテロ事件がおきた。
- ④ 占領下にあった沖縄の日本復帰が実現した。

問4 下線部 D について、これを表明したのは佐藤栄作元首相です。首相退任後、彼はある国際的な賞を受賞しました。マンデラ大統領（南アフリカ）、マララ＝ユスフザイ（パキスタン）なども受賞したその賞とは何ですか。7字で答えなさい。

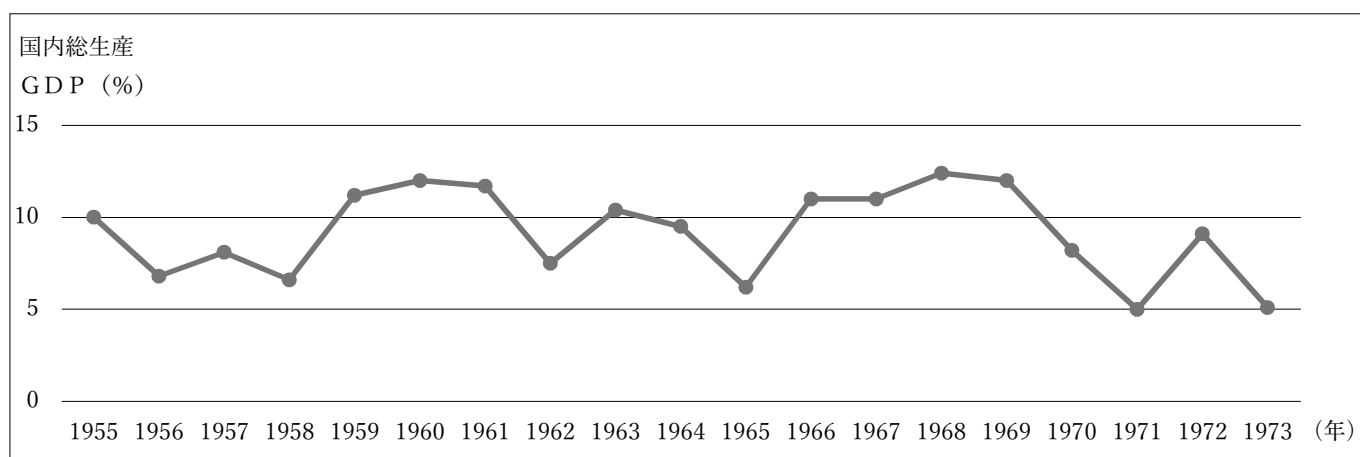
問5 下線部 E について、昭和天皇在位中のある期間のできごとに関して、次の問いに答えなさい。

(1) [グラフ] の期間の年平均経済成長率は 10 % を上まわりました。この期間を何といいますか。

(2) [グラフ] の期間におきた出来事として誤っているものを、次の①～④から選びなさい。

- ① 「夢の超特急」として東海道新幹線が開通し、東京～大阪間が4時間で結ばれた。
- ② 10年間で国民の所得を2倍にするという計画を首相が発表した。
- ③ 「人類の進歩と調和」をテーマとして、大阪で万国博覧会が開催された。
- ④ 京都議定書が採択され、先進国の温室効果ガス排出削減目標が定められた。

[グラフ] 実質経済成長率



(『国民経済計算年報』などを参考に本校作成)

(3) [資料Ⅱ] は [表] 中の人物の日記です。[表] 中の誰の日記ですか。後の①～④から選びなさい。

[資料Ⅱ] [表] 中の人物の日記

学校が夏休みになったらみんなでりょこうに行きたいとお母さんがいっています。電車はきっぷを買うのがたいへんだから、早くお父さんにめんきよをとってもらいドライブしたいといっています。でもぼくは、白黒でなくカラーテレビでライダーが見たいです。おばあちゃんもうちわでなくクーラーがほしいといっています。

- ① 曾祖父 ② 祖父 ③ 父 ④ 私

問6 下線部 F について、次の問いに答えなさい。

(1) 吉野ヶ里遺跡は、女王が統治していた国の集落跡ではないかといわれています。女王が統治していた国は何といいますか。

(2) [写真Ⅱ] と [地図Ⅱ] を見て、吉野ヶ里遺跡の写真と位置の組み合わせとして正しいものを、後の①～④から選びなさい。

[写真Ⅱ] 遺跡の外観



[地図Ⅱ]



- ① aとc ② aとd ③ bとc ④ bとd

3 次の会話文を読んで、後の問いに答えなさい。

はなこ：昨年5月に **A** 広島サミットが行われたわよね。

父：岸田首相は広島市などの選挙区から選出されているということもあり、かなり大きな話題をよんだね。

はなこ：**B** 広島市と言えば、原爆投下よね。

父：そうだね。広島市は平和記念都市として **C** 世界の核兵器^{はいぜつ}廃絶^{うた}を訴えているよね。

はなこ：日本の平和主義に関しては、憲法の前文と第9条に載っているわよね。

父：これまでも、**D** 特に憲法第9条に照らし合わせて、自衛隊の存在や役割が議論されてきたんだ。

はなこ：へえ、そうなんだ。

問1 下線部 **A** について、次の問いに答えなさい。

(1) 1975年に初めてサミットが行われました。サミットが行われるようになった理由となる、国際経済上のできごとを漢字4字で答えなさい。

(2) 次の【文章I】の(あ)にあてはまる国名として正しいものを、後の①～④から選びなさい。

【文章I】

G7広島サミットで、参加国の首脳が広島市の原爆資料館をそろって訪れたあと、その中の一人である、(あ)のトルドー首相が「展示内容をじっくり見たい」と希望し、滞在の最終日の午後に、再訪していたことがわかりました。

- ① アメリカ ② カナダ ③ イギリス ④ オーストラリア

問2 下線部 **B** について、第二次世界大戦後の広島に関するできごととして誤っているものを、次の①～④から選びなさい。

- ① 広島に原爆が投下された直後に、放射性物質を含むいわゆる「黒い雨」を浴びて健康被害^{ひがい}を受けたと住民などが訴えた裁判で、2021年政府は上告しないことを決めた。
- ② 2016年、アメリカのトランプ大統領は、伊勢志摩サミットの日程を終えた後、現職の大統領として初めて被爆地・広島を訪れ、「核兵器のない世界」を追求していくと訴えた。
- ③ 1954年にアメリカがおこなった水爆実験によって第五福竜丸の乗組員が犠牲^{ぎせい}になったことから1955年に第1回原水爆禁止世界大会が広島で行われた。
- ④ 広島市教育委員会は、市立小学校3年生向けの平和学習教材に引用掲載^{けいさい}してきた漫画^{まんが}『はだしのゲン』を、2023年度から削除し、別の被爆者体験談に差し替えることを決めた。

問3 下線部 C について、次の問いに答えなさい。

- (1) 次の【文章Ⅱ】は核兵器に関するある条約を説明したものです。この条約の名前を解答らんにあうように漢字3字で答えなさい。

【文章Ⅱ】

1996年に国連総会で採択された、宇宙空間、大気圏内、水中、地下を含むあらゆる空間での核兵器の実験的爆発及びその他の核爆発を禁止した条約

- (2) 国際連合の関連機関として、原子力の平和的利用を促進するとともに、原子力の軍事的利用への転用を防止することを目的とする国際機関があります。この組織をアルファベットで何とあらわしますか。次の①～④から選びなさい。

- ① IAEA ② WHO ③ UNICEF ④ UNESCO

問4 下線部 D について、次の問いに答えなさい。

- (1) 次の【資料】は、ある首相が日本国憲法第9条の解釈について述べたものです。この談話は誰のものですか。後の①～④から選びなさい。

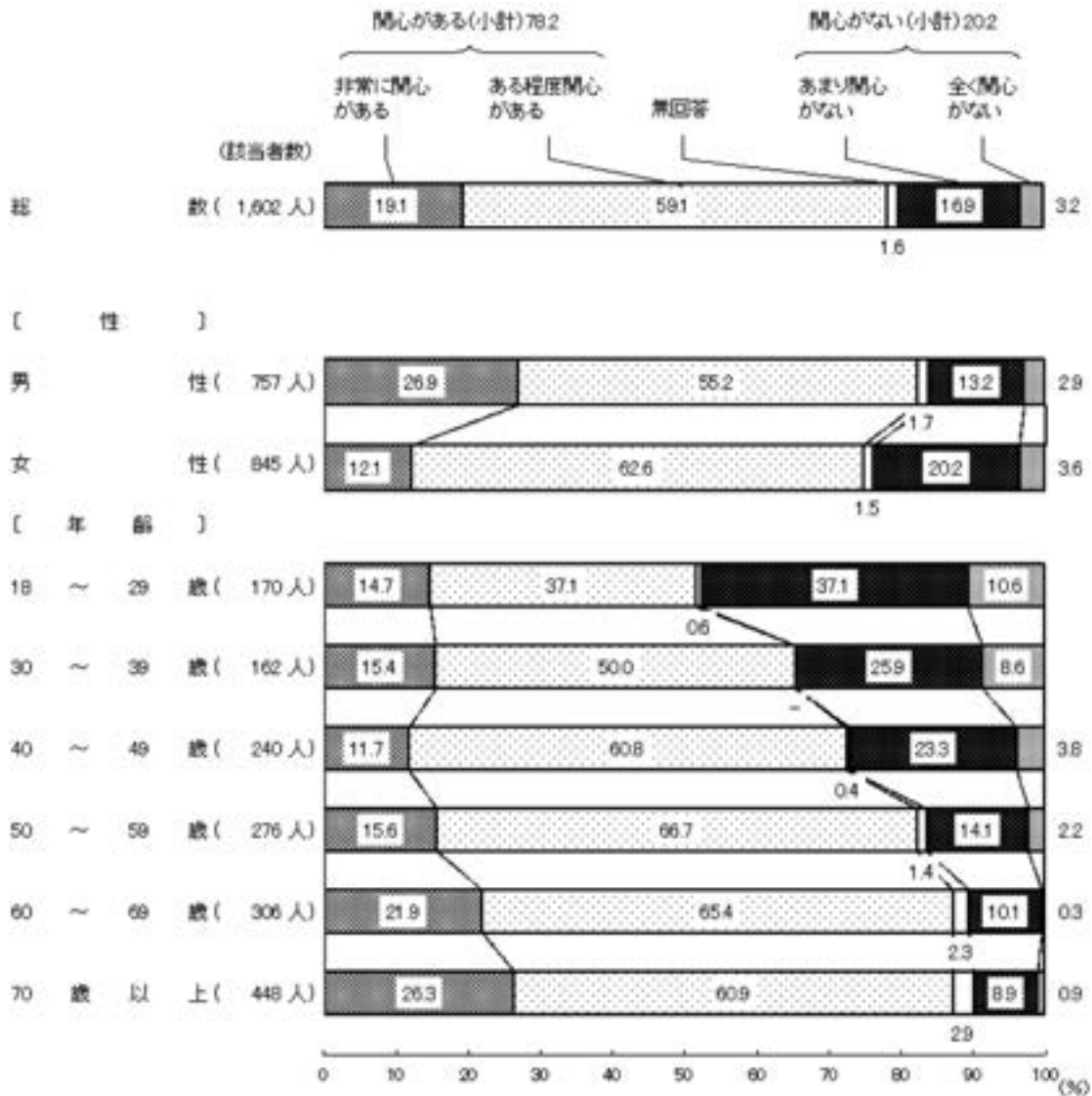
【資料】 憲法第9条に関する首相談話

わが国と密接な関係にある他国に対する武力攻撃が発生し、これによりわが国の存立が脅かされ、国民の生命、自由及び幸福追求の権利が根底からくつがえされる明白な危険がある場合において、必要最小限度の実力を行使することは、自衛のための措置として、憲法上許される。

- ① 鳩山一郎 ② 安倍晋三 ③ 海部俊樹 ④ 菅直人

(2) 次の [図] について述べた文として誤っているものを、後の①～④から選びなさい。

[図] 自衛隊への関心についての世論調査



(内閣府 『令和4年度 世論調査』)

- ① 「ある程度関心がある」の割合に関して、一番多い^{ねんれい}年齢層と一番少ない年齢層の差は、25%以上ある。
- ② 「非常に関心がある」と「ある程度関心がある」とを合わせた割合は、どの年齢層においても、50%をこえている。
- ③ 「あまり関心がない」と「全く関心がない」とを合わせた割合で、3番目に多い年齢層は「50～59歳」である。
- ④ 「非常に関心がある」と答えた男性の割合は、女性の割合の2倍以上ある。

(問題は次のページに続く)

4 次の会話文を読み、後の問いに答えなさい。

先生：今日は、世界遺産について考えてみましょう。お二人は世界や日本の世界遺産を、どのくらい知っていますか。また、実際に行ったことがある世界遺産はありますか。

花子：私はローマのコロッセウムや、エジプトのピラミッドなどを知っています。

太郎：^{ぼく}僕は群馬県の富岡製糸場や兵庫県の姫路城に行ったことがあります。

先生：そうですか。それでは、日本の世界遺産の登録数は全部でどのくらいあるか知っていますか。

花子：10くらいかな。

太郎：50くらいかな。

先生：ちなみに世界遺産は2つの種類があり、文化遺産と自然遺産とに分かれます。日本の世界遺産としては、文化遺産が20、自然遺産が5、つまり合計で25の世界遺産が登録されています。

花子：先生、世界全体の中で、日本の世界遺産は多い方なのですか。

先生：^{いちがい}一概に多いとか、少ないとか答えにくいのですが、日本の登録数25という数字は、世界では11番目になります。ところで、事前に配布した[表]を見て、何か傾向や特徴など気づいたことがありますか。

[表] 世界遺産の登録数ランキング (2023年12月現在)

順位	国名	登録数	順位	国名	登録数
1	イタリア	59	11	日本	25
2	中華人民共和国	57	11	アメリカ合衆国	25
3	ドイツ	52	13	ブラジル	23
3	フランス	52	14	カナダ	22
5	スペイン	50	15	トルコ	21
6	インド	42	16	オーストラリア	20
7	メキシコ	35	17	ギリシャ	19
8	イギリス	33	18	ポーランド	17
9	ロシア	31	18	ポルトガル	17
10	イラン	27	18	チェコ	17

(UNESCO HP より本校作成)

花子：観光地として有名な国が多い気がします。

太郎：僕は地域的に考えたのですが、例えばアジアの国々が少なく、ヨーロッパの国々が多いような気がします。

先生：たしかに太郎くんが指摘した通り、地域的なかたよりという点は、これまでも問題とされてきました。これは「先進国」と「開発途上国」との差ではないか、とも言われています。また、**A** そもそもヨーロッパの建造物の特徴とアジアの建造物の特徴の違いも、登録数の差の理由だと指摘されています。世界遺産の登録の基準という面から考えると、その理由が分かってくるかも知れませんよ。また調べてみて下さい。

太郎：もう一つ質問です。世界全体では、現在どのくらいの世界遺産が登録されているのですか。

先生：2023年12月現在で、計1199です。**B** ただ、最近では、この増え過ぎてしまった世界遺産の保護や管理が難しくなっています。また、昔と比べて登録に必要な書類の量も増え、更に審査も厳しくなっているようです。

花子：色々と大変なのですね。

太郎：「武家の古都・鎌倉」の街が登録されなかったと聞いたことがあります。やはり審査が厳しくなっているからでしょうかね。

問1 下線部 A について、登録数ランキングを見ると、特にヨーロッパの国々が多く、アジアの国々が少ないといえます。これにはさまざまな理由が考えられますが、その理由の1つを、次の [写真Ⅰ]・[写真Ⅱ]・[資料Ⅰ] を参考にして、解答らんにあてはまるように45字以内で説明しなさい。

[写真Ⅰ] ギリシャ・パルテノン^{しんでん}神殿の柱 (約2500年前に建造)



[写真Ⅱ] 日本・法隆寺の柱 (約1400年前に建造)

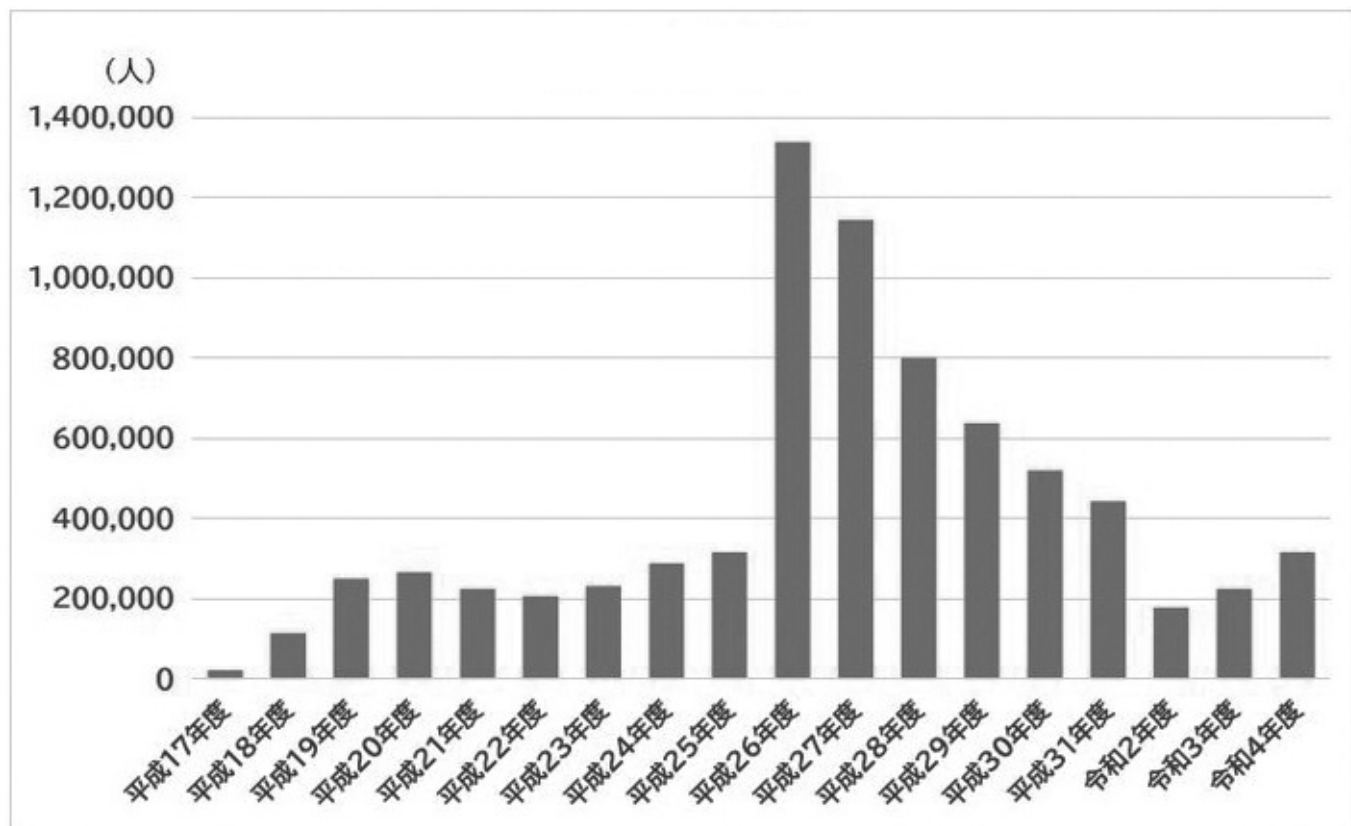


[資料Ⅰ] 太郎くんが調べた世界遺産への登録条件

・世界遺産に登録されるためには、その候補となる物件が本物であるか、つまり、本来の材料が保存されているか、本来の技術が継承^{けいしょう}されているかが重要である。また、その候補となる物件に、十分な保全管理が確保されているかも重要である。

問2 下線部 B について、[資料Ⅱ] は富岡製糸場の見学者数の推移を示しています。富岡製糸場が世界遺産に登録されたことで、どのような効果が期待でき、また逆にどのような課題があると考えられますか。
[資料Ⅱ]・[資料Ⅲ] を参考にして、60 字以内で説明しなさい。

[資料Ⅱ] 富岡製糸場の年度別見学者数



※富岡製糸場の世界遺産の登録は平成 26 年度

(世界遺産 富岡製糸場HP)

[資料Ⅲ] 「富岡製糸場基金」について

市は、継続的に保存整備事業を進めるため、支出の平準化や将来に備えて、入場料収入の一部や寄付金などを原資として「富岡製糸場基金」を設けている。2016 年度には 10 億円近く積み上がったが、入場料収入の減少で残高も年々減り、2021 年度中に残金 7000 万円ほどを使い切る見通しだ。

(2021 年 6 月 28 日 読売新聞 一部改変)

記入例

良い例	●
悪い例	○

《注意事項》
 ・解答は解答欄の枠内に濃くはっきりと記入して下さい。
 ・解答欄以外の部分には何も書かないで下さい。

用紙タテ上 こちらを上にしてください

この場所に
解答しないこと

社会

1 問1

問2

県と

県の間

問3

問4

問5

問6

月

日

時

問7

牛肉

豚肉

2 問1

問2

問3

問4

問5 (1)

(2)

(3)

問6 (1)

(2)

3 問1 (1)

(2)

問2

問3 (1)

核実験禁止条約

(2)

問4 (1)

(2)

4 問1

ヨーロッパの登録が多い理由は、

問2